

# KENDRIYA VIDYALAYA NO.1, AFS TAMBARAM

## PRACTICE PAPER

Class : XII

Geography (Theory)

Maximum Marks : 70

Time: 3 Hrs

### General Instructions:

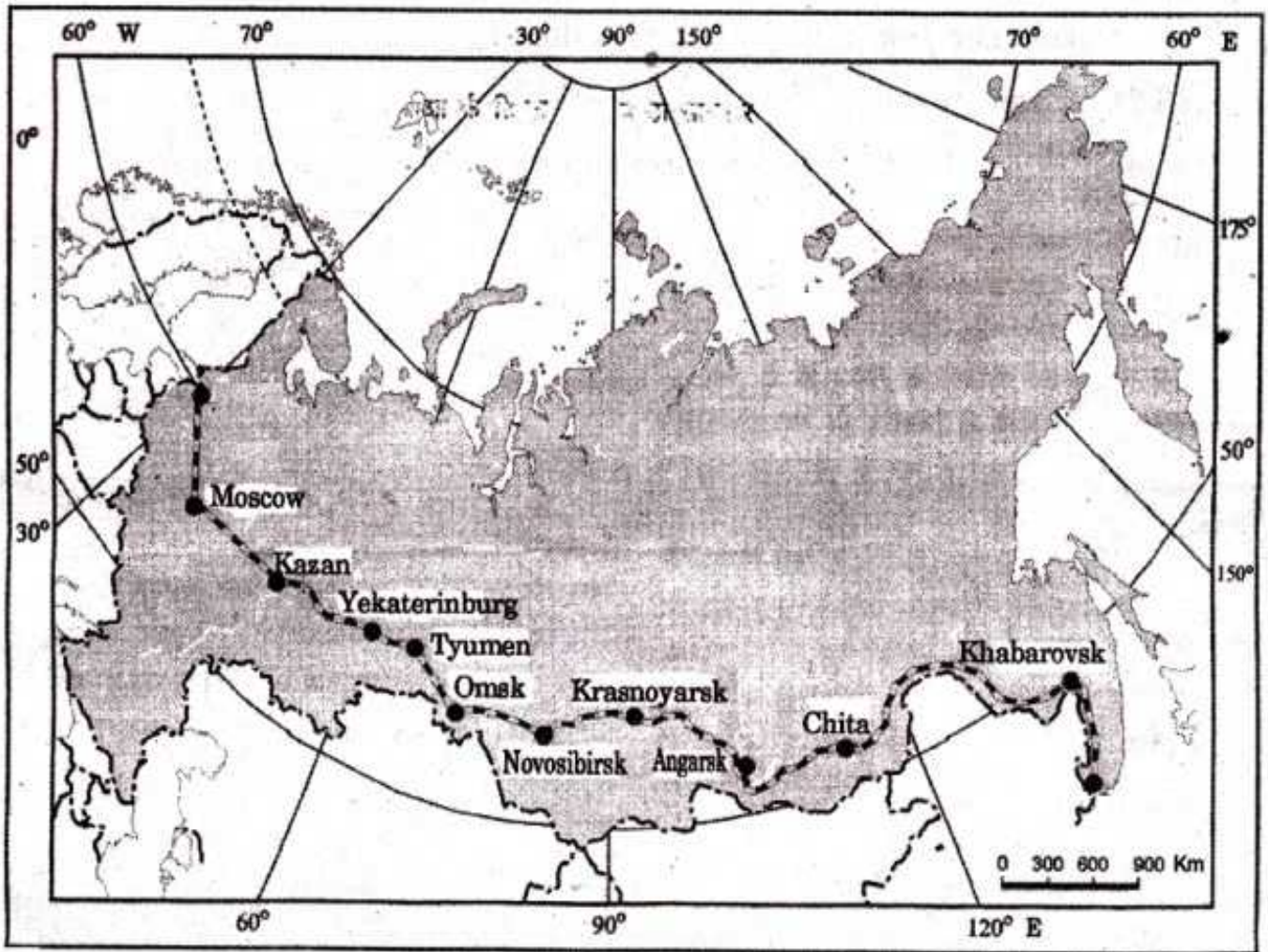
- (i) There are 22 questions in all.
- (ii) All questions are compulsory
- (iii) Marks for each question are indicated against it.
- (iv) Questions No. 1 -7 are very short-answer questions carrying 1 mark each. Answer to each of these questions should not exceed 20 words.
- (v) Questions No. 8- 13 are short-answer questions carrying 3 marks each. Out of which Two questions is a value based question. Answer to each of these questions should not exceed 80 words.
- (vi) Questions No. 14- 20 are long – answer questions carrying 5 marks each. Answers to each of these questions should not exceed 150 words.
- (vii) Question No, 21, 22 is related to identification or locating and labelling of geographical features on maps.
- (viii) Outline maps of the World and India provided to you must be attached within your answer-book.

### सामान्य निर्देश:

- (१) प्रश्नों को कुल सखाया 22 है ।
- (२) सभी प्रश्न अनिवार्य हैं ।
- (३) प्रत्येक प्रश्न के अंक उसके समाने अंकित हैं।
- (४) प्रश्न सखाया 1-7 तक अथवा लघु उत्तर वाले प्रश्न हैं । प्रत्येक प्रश्न के 1 अंक हैं । इनमें से । प्रत्येक प्रश्न का उत्तर 20 शब्दों से अधिक के नहीं होना चाहिए ।
- (५) प्रश्न सखाया 8 - 13 तक अथवा लघु उत्तर वाले प्रश्न हैं । प्रत्येक प्रश्न के 3 अंक हैं । इनमें से । प्रत्येक प्रश्न का उत्तर 20 शब्दों से अधिक के नहीं होना चाहिए ।
- (६) प्रश्न सखाया 14 - 20 तक अथवा लघु उत्तर वाले प्रश्न हैं । प्रत्येक प्रश्न के 5 अंक हैं । इनमें से । प्रत्येक प्रश्न का उत्तर 150 शब्दों से अधिक के नहीं होना चाहिए ।
- (७) प्रश्न सखाया 21, 22 मानचित्रों पर दिए गए भौगोलिक लक्षणों को पहचानने और स्थिति दिखाने एवं नामांकन करने से संबंधित हैं ।
- (८) संसार और भारत के दिए गए रेखा-मानचित्रों को अपनी उत्तर-पुस्तिका के बीच में अवश्य सलग्न कीजिए ।

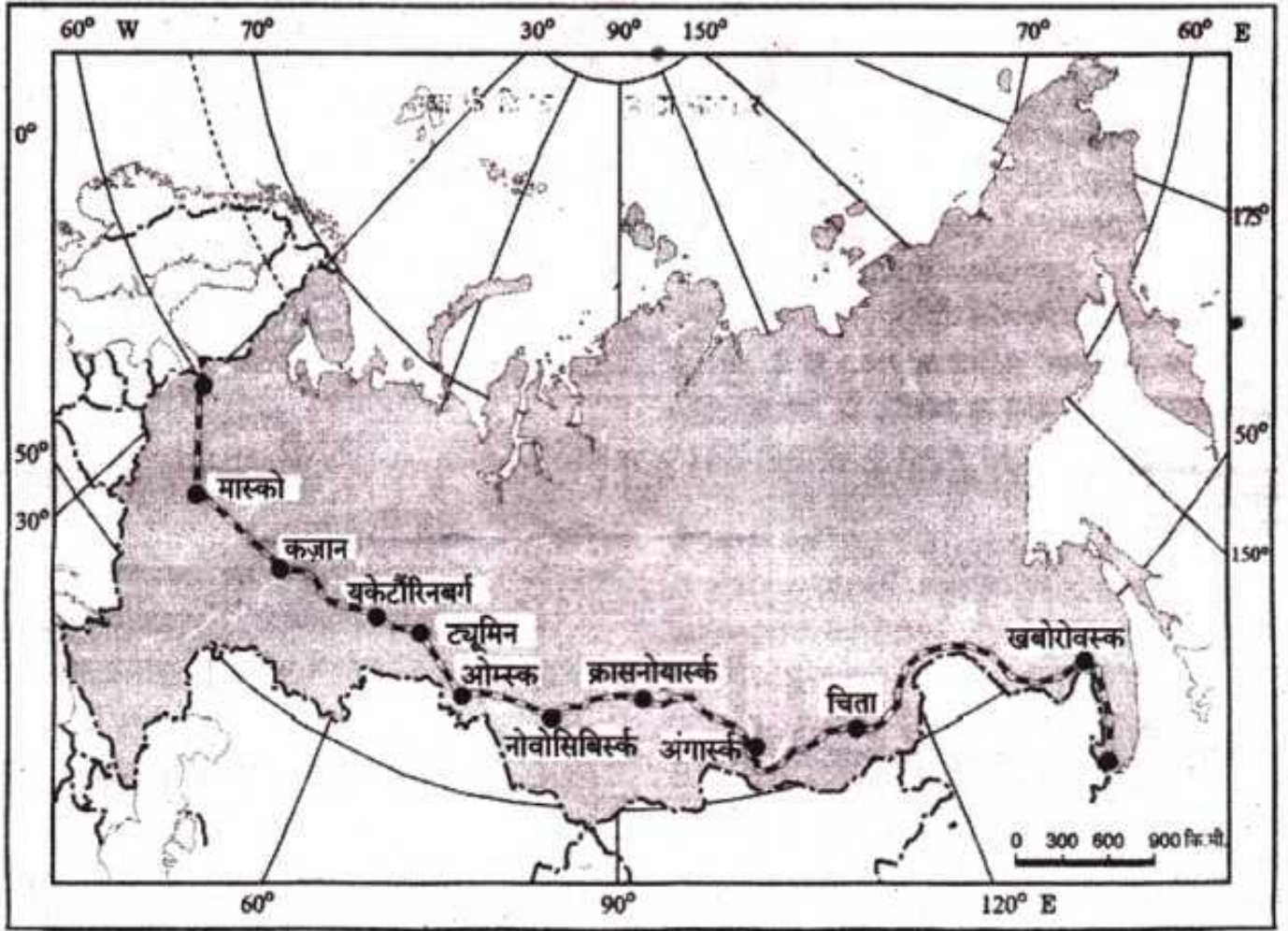
- 1) How is the actual growth of population calculated?  
जनसंख्यावृद्धि (आबादी) के सही विकास को गणना कैसे की जाती है?
- 2) To which economic activity do red collar workers belong?  
लाल कालर कर्मचारियों का संबंध किस अर्थशास्त्र गतिविधि से है।
- 3) Where is silicon valley situated? What is it famous for?  
सिलिकॉनवाली कहाँ स्थित है ? यह किसके लिए प्रसिद्ध है?
- 4) Name any two beneficiary states of India from international migrant remittance.  
प्रवासी भारतीयों से अधिक लाभ उठानेवाले भारत के किन्हीं दो राज्यों के नाम लिखिए ?
- 5) State any 3 causes of the need of irrigation in India.  
भारत में सिंचाई की आवश्यकता के किन्हीं तीन कारणों को लिखिए ।

- 6) How intensity of cropping calculated?  
फसल की तीव्रता की गणना कैसे की जाती है ?
- 7) What do you mean by balance of trade?  
यापारिक सतुलन से आप क्या समझते हैं ?
- 8) What are pillar of human development? Explain briefly.  
मानविकास के स्तंभ क्या - क्या हैं ? संक्षिप्त विवरण दीजिए ।
- 9) Explain the concept of environmental determinism with suitable examples.  
उचित उदाहरण से एन्विरोमेन्टल डेटर्मिनिज्म
- 10) Study the map given below and answer the questions that follow:



- (10.1) Identify and name the railway line shown on the map.
- (10.2) Name the continents linked by this rail route.
- (10.3) Explain how this railway line is helpful for the promotion of trade in this region.

नीचे दिए गए मानचित्र का अध्ययन कीजिए और उसके नीचे दिए गए प्रश्न के उत्तर दीजिए



- (10.1) मानचित्र पर दिखाए गए रेलमार्ग को पहचान कीजिए और उसका नाम बताइए
- (10.2) इस रेलमार्ग द्वारा जुड़े महाद्वीपों के नाम बताइए ।
- (10.3) यह रेलमार्ग इस प्रदेश में व्यापार को प्रोत्साहित करने के लिए किस प्रकार उपयोगी है, स्पष्ट कीजिए

11) Africa has immense natural resources and yet it is industrially the most backward continent. Give reason

प्राकृतिक संपदा से अत्याधिक सम्पन्न अफ्रीका व्यवसायिक तौर पर बहुत पिछड़ा महाद्वीप है | कारण लिखिए | (मूल्य पर आधारित प्रश्न)

12) Write any 3 major aims of water shed development.

वाटर शेड विकास के किन्हीं तीन प्रमुख उद्देश्य लिखिए |

13) What are the problems of slums in India? (Value Based)

भारत के झोम्पड़ पातियों की समस्या क्या क्या है |

14) Describe the rural urban composition of the population.

ग्रामीण और शहरीय लोगों की जनसंख्या किसप्रकार का वर्णन कीजिए |

15) What are the factors influencing the location of an industry. Explain briefly.

व्यवसायिक स्थानों को प्रभावित करनेवाले तथ्यों के बारे में लिखिए ?

16) What are the different classifications of rural settlement on the basis of forms or shape

रूप और आकार के आधार पर ग्रामीण टहराव के विभिन्न वर्गीकरण व्यक्त कीजिए |

17) What are the main causes of migration in India?

भारत में प्रवास करने के प्रमुख कारण लिखिए |

18) Classify the Indian cities or towns on the basis of their functions.

अपने अपने कार्यप्रणालियों के आधार पर भारतीय नगर या शहर को वर्गीकृत कीजिए |

19) Why is conservation of minerals necessary? Discuss the various methods of conserving minerals?

खानेज पधाथीम के सरक्षा की आवश्यकता (दरकर) क्या है? खानेज के विधियों की चर्चा कीजिए

20) Describe the role of roads in the economic development of India.

भारत के आर्थिक विकास में सड़कों की भूमिका निर्धारित कीजिए?

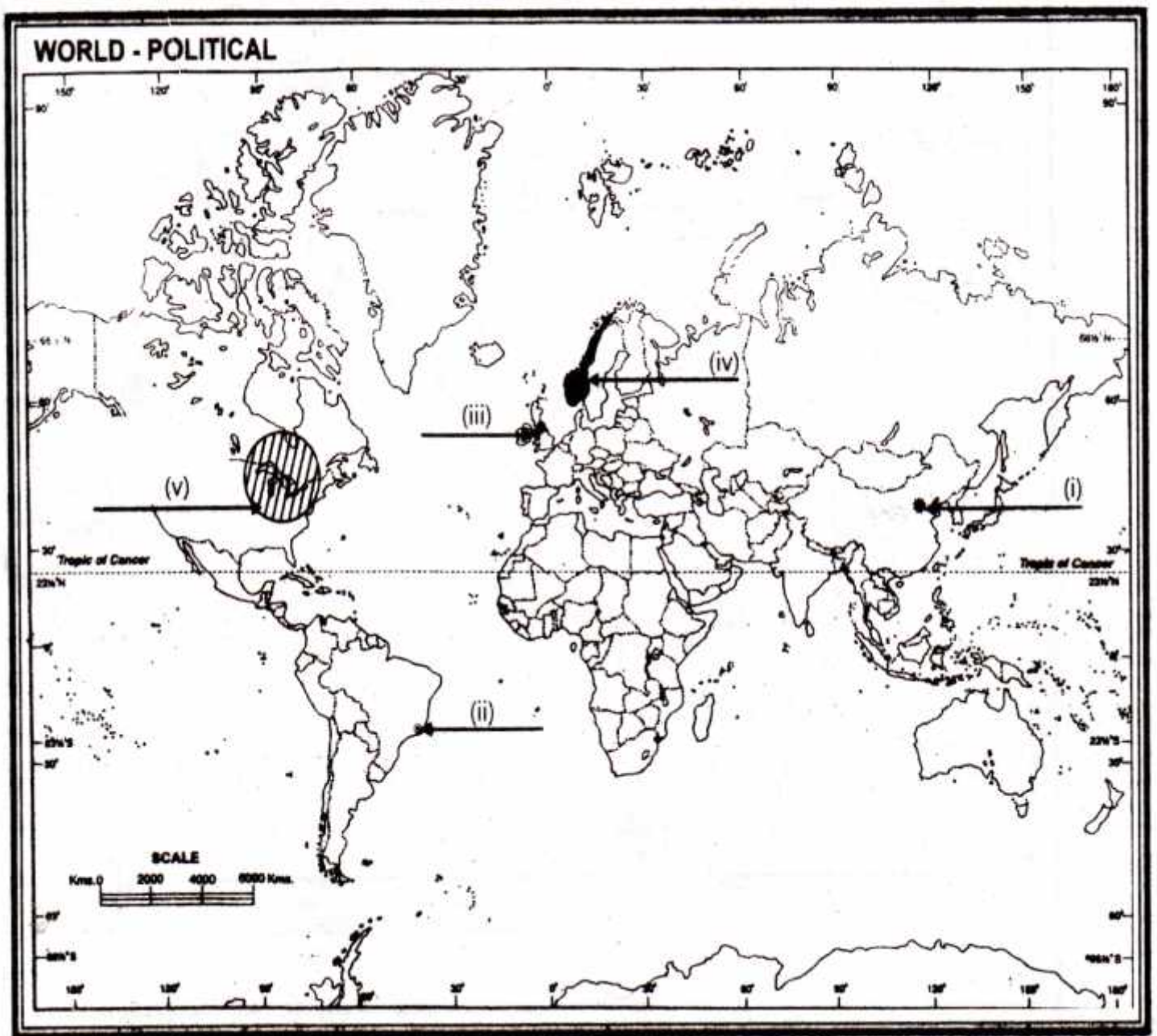
21) On the given outline map of the world, the following five features are shown.

Identify these features and write their correct names on the lines marked near each feature.

- (i) A Mega city of China
- (ii) Major sea port of Brazil
- (iii) Major air port of England
- (iv) The Highest HDI ranking country
- (v) An industrial region of North America



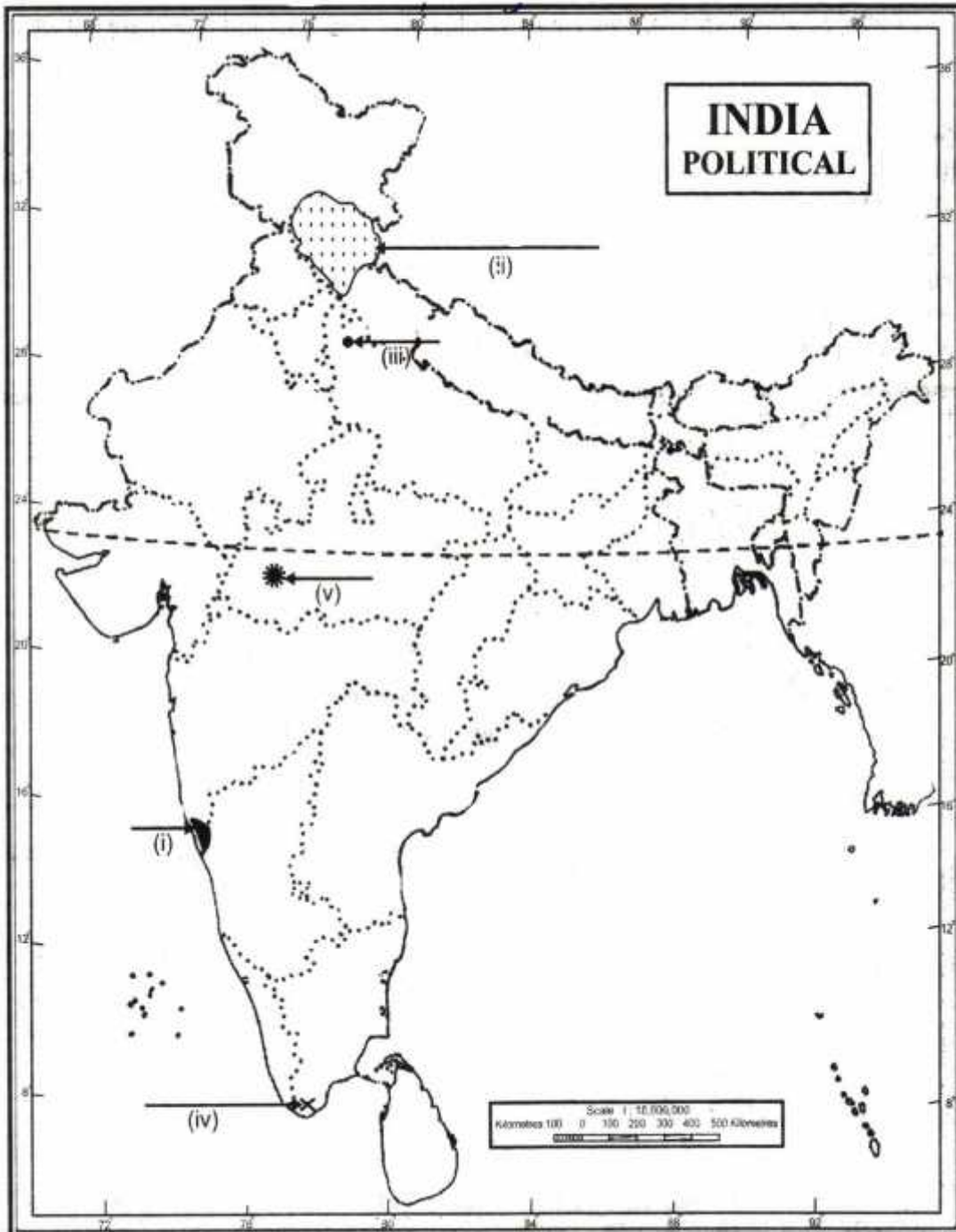
1. मेगा सिटी ऑफ चाइना
2. मेजर सी पोर्ट ऑफ ब्राज़ील
3. मेजर एयर पोर्ट ऑफ इंग्लैंड
4. हाइएस्ट हदी रीकिंग कंट्री
5. इंडस्ट्रियल रीजन ऑफ नाथ अमेरिका



22) On the given outline map of India, locate and label the following with appropriate symbols.

- (i) The smallest state in area
- (ii) Hindu dominating state
- (iii) Nuclear power plant of Uttar Pradesh.
- (iv) Southern terminal of North South Corridor.
- (v) Software Technology Park of Madhya Pradesh

- (i) स्मल्लेस्ट स्टेट इन एरिया
- (ii) हिन्दू दौमिनातेग स्टेट
- (iii) नुक्लेअर पावर प्लाट ऑफ उत्तर प्रदेश
- (iv) साउथने टोमेनल ऑफ नाथे साउथ कॉरिडोर.
- (v) सांफ्टवेर टेक्नोलॉजी पाके ऑफ मध्य प्रदेश.



**KENDRIYA VIDYALAYA NO.1, AFS TAMBARAM**  
**PRACTICE PAPER**

Class: XII – A

GEOGRAPHY (Theory)

Time: 3 hrs

Max.Marks: 70

*General Instructions:*

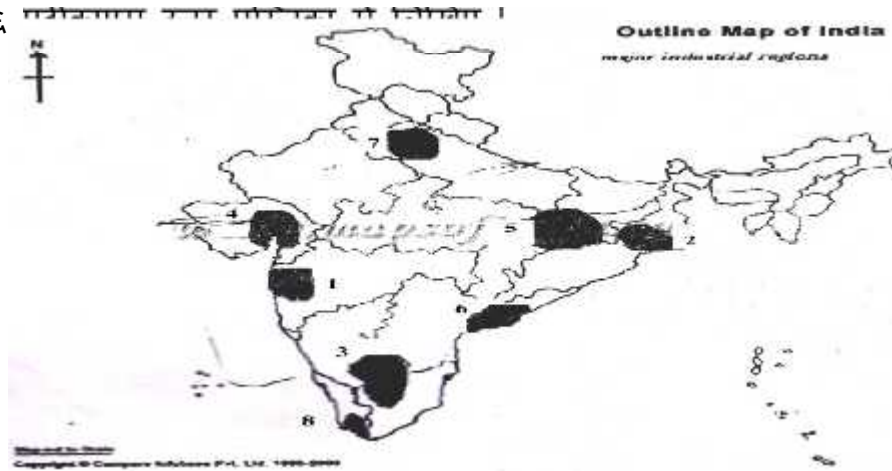
- (i) *There are 22 questions in all.*
- (ii) *All questions are compulsory*
- (iii) *Marks for each question are indicated against it.*
- (iv) *Questions No. 1 -7 are very short-answer questions carrying 1 mark each. Answer to each of these questions should not exceed 20 words.*
- (v) *Questions No. 8- 13 are short-answer questions carrying 3 marks each. Out of which Two questions is a value based question. Answer to each of these questions should not exceed 80 words.*
- (vi) *Questions No. 14- 20 are long – answer questions carrying 5 marks each. Answers to each of these questions should not exceed 150 words.*
- (vii) *Question No, 21, 22 is related to identification or locating and labelling of geographical features on maps.*
- (viii) *Outline maps of the World and India provided to you must be attached within your answer-book.*

प्रश्नों को कुल सखाया 22 है | है |के अक उसके समने आकेत है|तक अथो लघु उत्तर वाले प्रश्न है | प्रतेक प्रश्न के 1 अक है | इनमे से | प्रतेक प्रश्न का उत्तर 20 शब्दो से आधिक के नही होना चाहेए | सखाया 8 - 13 तक अथो लघु उत्तर वाले प्रश्न है | प्रतेक प्रश्न के 3 अक है | इनमे से | प्रतेक प्रश्न का उत्तर 20 शब्दो से आधिक के नही होना चाहेए |

1. Give two reasons for unfavourable sex ratio in the world.  $\frac{1}{2} + \frac{1}{2} = 1$
2. Explain the term Cyber-space –Internet. (1)  
साइबर - स्पेस इन्टरनेट शब्द को स्पष्ट करो |
3. List out the major primary activities. (1)  
मुख्य प्राथमिक क्रियाम को सूची बनइए |
4. Name any two densely populated regions of the world with more than 200 persons living on every sq.km.  $\frac{1}{2} + \frac{1}{2} = 1$
5. Define Rain water Harvesting. (1)  
वषे-जल सरक्षण को पारभापेत कोजेए |
6. Name two member nations of SAFTA. (1)  
सप्त के दो सदस्य राशत्रोम के नाम बताइए |
7. Find out the reasons for the countries with low Human Development Index value. Give three reasons. (3)  
निम्न मानव विकास सूचाकम्क वाले देशो के कारणो का पाते कोजेए | किन्हो तीन करानोम का उल्लेख करोम |
8. Explain three problems of slums in India. (3)  
भारत मे मालेन बसाथयोम को तीन समस्योम को व्याख्या कोजेए |
9. India – Major Industrial Regions

Study the Industrial regions map of India and identify 1,2,3,4,6 and 8<sup>th</sup> Industrial belts. Write the same in your answer sheet. (3)

भारतिया औद्योगिक क्षेत्र के मानचित्र का अध्ययन करो तथा पहचाने हुए १, २, ३, ४, ५ एवं ६



10. Fifteenth century onwards European colonialism began and along with trade of exotic commodities, a new form of trade emerged which was called slave trade. The Portuguese, Dutch, Spaniards, and British captured African natives and forcefully transported them to the newly discovered American for their labour in the plantations. Slave trade was a lucrative business for more than two hundred years till it was abolished in Denmark in 1792, in Great Britain in 1807 and United States in 1808.

Read the above paragraph and answer the following:

- (a) "Slavery was a curse" justify the statements in your opinion.  
 (b) What kind of values are needed to bring slavery to an end?

दास - प्रथा के अंत हेतु किस प्रकार के मूल्यों की आवश्यकता है ?

Explain any three types of ports on the basis of specialized functions. (3)

विशेषीकृत कयोलापोम के आधार पर किन्ही तीन प्रकार के पत्थानी को व्याख्या करो ।

11. Why is road transport in India more important than rail transport? Explain three reasons. (3)

सड़क पारिवहन रेल पारिवहन को अपेक्षा किस प्रकार महात्त्वपूर्ण है ? तीन कारण बताइए ।

12. Explain any five important consequences of migration. (5)

महत्वपूर्ण कारकों का संक्षिप्त वर्णन कीजिए ।

13. (a) Write one difference between manufacturing and modern manufacturing.  
 (b) Discuss in detail the geographical and non-geographical factors responsible for the location of Industry. (5)

अ) विनिर्माण और आधुनिक निर्माण के मध्य अंतर लिखिए ।

आ) को प्रभावित करते हैं ?

14. (a) Define trans-continental Railways.  
 (b) Name the major trans-continental railways of the world with its length.  
 (c) Which is the trans-continental railway line proposed to build? (5)

रलमाग को पारभाषत कोजए ।के मुख्य पदोवोपया रलमागोम के नाम तथा उसको लम्बायी बताइए।

अ) कोन सी पारदोवोपया रलमागोम के नाम तथा उसको लम्बाइ बताइए ।



15. Explain the types of rural settlements on the basis of forms and shapes of the settlements with the help of suitable diagram. (5)

कोजिए |

16. Explain the different methods of rain water harvesting practiced in India. (5)

भारत में वर्ष - जल संरक्षण की विधियों का वर्णन कीजिए |

17. Explain any five problems faced by Indian agriculture with suitable solutions. (5)

भारत कृषि की किन्हीं पांच समस्याओं को समाधान के साथ वर्णन कीजिए |

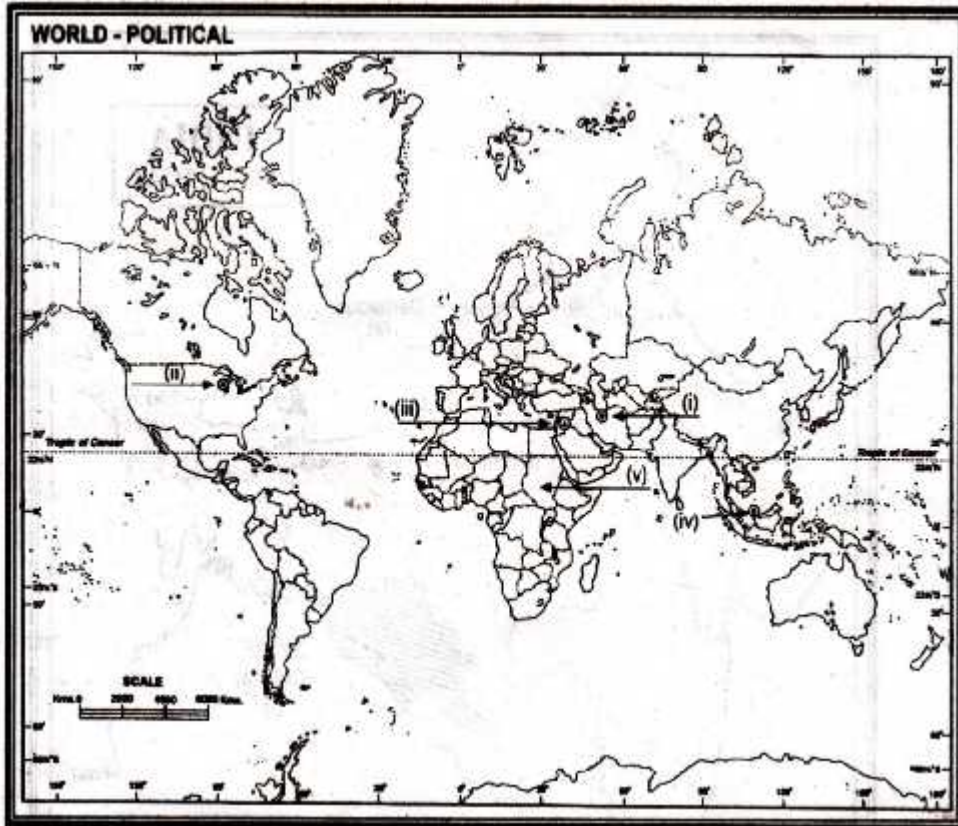
18. What is density of population? Explain four geographical factors influencing the distribution of population in the world. (5)

19. What is manufacturing. (1)

जनसंख्या घनत्व से क्या तात्पर्य है ? कीजिए |

20. On the outline map of the World. Five features are shown. Identify the features with the help of index and write their correct names against it:

- (i) Mega city
- (ii) Major Airport
- (iii) Major Seaport



21. On the given outline map of India, locate and label the following with appropriate symbols:

- (i) The state having the highest percentage of population under poverty line.
- (ii) The Software Technology Park in Uttarakhand
- (iii) State having the lowest population.
- (iv) Metropolitan city of Bihar
- (v) State having the highest road density



---